



Unsere Erde ist noch immer ein Waldplanet. Ein Drittel der Landfläche ist von Wald bedeckt. Doch unsere Wälder schrumpfen. Sie werden zum Beispiel niedergebrannt, um Boden für die Landwirtschaft zu gewinnen.

Manche Länder bemühen sich, den Wald wieder aufforsten. Aber verloren gegangene Urwälder mit ihren Baumriesen wachsen so schnell nicht nach.

das Drittel:

schrumpfen:

aufforsten:

der Urwald:

:


© Birkingshaus Schulbuchverlage




① Versuche, die markierten Wörter zu erklären.

Du kannst jemanden fragen, die Wörter im Lexikon nachschlagen oder im Internet suchen.


Überlege, welche Bedeutung am besten passt!



* ② Schreibe ein weiteres Wort aus dem Text auf und erkläre seine Bedeutung.


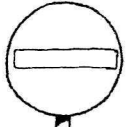


Verkehrszeichen

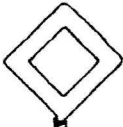
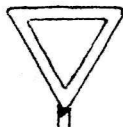


- 1 Male die Verkehrsschilder an. Benutze das Schulbuch, Seite 107, zur Kontrolle.
- 2 An welchem Zeichen erkennst du, dass nach links abgebogen werden muss?
Was bedeutet das andere Zeichen?

- 3 Rund und rot heißt Verbot. Schreibe die Bedeutung dieser Verkehrsschilder auf.



- 4 Verkehrsschilder regeln die Vorfahrt. Schreibe auf, was sie anzeigen.





Der Hund sieht lieb aus.

Er ist mittelgroß.

Der Hund hat dunkles Fell mit langen Haaren.

Meine Freundin hat auch einen Hund.

Das Fell reicht bis auf den Boden.

Der Hund kann nur im Schnee laufen.

Seine Ohren hängen herab.

Seine Schnauze ist flach.

Der Hund muss täglich gebürstet werden.

Um seine Schnauze und die Brust ist das Fell weiß.

Seine kleinen Augen sind vom Fell fast verdeckt.

© Westermann Gruppe

- ① Lies den Text. Welcher Hund wurde beschrieben?
- ② Streiche die Sätze durch, die nicht zur Beschreibung des Hundes gehören.
- ③ Ordne die Satzstreifen und klebe sie unter das richtige Bild. *auf die Rückseite des AB/KV 41.*

Texte verfassen



Grundform	ich	du	er sie es	wir	ihr	sie

1 Ordne die Kärtchen mit den Personalformen von KV 45 in die Tabelle ein.



laufen	wissen	laufen	weiß	fallen	laufen	wissen
weiß	fällt	falle	läufst	wisst	fällst	läuft
fallen	läuft	laufe	weißt	fallt	wissen	fallen
fahren	mögen	fahre	magst	fährst	lassen	lässt
lasse	mögen	mag	mögt	fahrt	lassen	lässt
mag	fährt	lasst	fahren	mögen	lassen	fahren
esse	schlafen	tragen	schlafe	nehmen	trägt	isst
tragen	trage	essen	essen	schläfst	nimmt	schläft
schläft	isst	nehmen	schlafen	nimmst	tragen	trägt
essen	nehmt	nehme	schlafen	trägst	nehmen	esst

© Westermann Gruppe

1 Schneide die Kärtchen aus und ordne sie in die Tabelle von KV 44 ein.

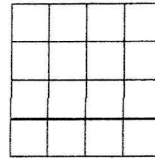

- Kennen von Eigenschaften bekannter Wortarten (Verb)
- Infinitiv, Personalformen, Präsens und Präteritum

- SB, Seite 46, 51
- ÜH, Seite 29, 33

Sprache untersuchen

Schriftliches Addieren

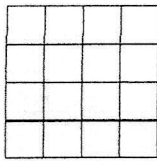
1 Finde die Aufgabe. Schreibe die Zahlen untereinander und rechne.



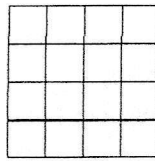
Schein
Achtung: $\boxed{100} \boxed{100} = 100\text{€}$
 $\boxed{10} \boxed{10} = 10\text{€}$

2 Schreibe die Zahlen untereinander und rechne.

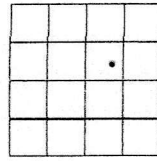
a) $65 + 324$



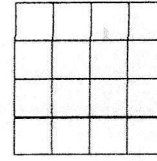
b) $604 + 152$




c) $345 + 234$



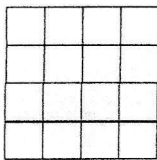
d) $576 + 321$



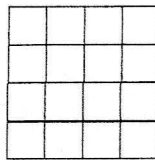
e) $426 + 72$



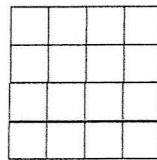
f) $451 + 367$



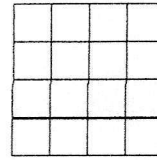
g) $250 + 482$



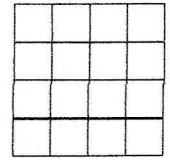
h) $473 + 452$



i) $328 + 456$



j) $244 + 196$



3 Ergänze die fehlenden Ziffern.

a)
$$\begin{array}{r} 1 2 \\ + 2 7 \\ \hline 6 6 \end{array}$$

b)
$$\begin{array}{r} 6 3 \\ + 2 0 \\ \hline 7 9 \end{array}$$

c)
$$\begin{array}{r} 5 1 \\ + 1 4 \\ \hline 7 8 \end{array}$$

d)
$$\begin{array}{r} 8 2 \\ + 3 6 \\ \hline 7 4 \end{array}$$

e)
$$\begin{array}{r} 7 3 \\ + 4 5 \\ \hline 8 4 \end{array}$$

4

100	
60	
75	
55	
70	
45	
25	
95	
1	


1000	
600	
750	
550	
700	
450	
250	
950	
10	

500	
250	
300	
120	
370	
210	
4	
499	
9	

900	
250	
300	
120	
370	
210	
4	
499	
9	

Schriftliches Addieren mit drei Zahlen

1 Wer hat gewonnen? Addiere schriftlich.



	1. Sprung	2. Sprung	3. Sprung
Marcus	170 cm	121 cm	108 cm
Sarah	104 cm	93 cm	101 cm
Lisa	125 cm	132 cm	139 cm

Marcus

	1	7	0	cm
+	1	2	1	cm
+	1	0	8	cm
				cm

Sarah

	1	0	4	cm
+				cm
+				cm
				cm

Lisa

				cm
+				cm
+				cm
				cm

Antwort: _____

2 Rechne.

a)

	1	2	3
+	4	1	2
+	2	3	4

b)

	3	4	1
+		2	5
+	1	1	2

c)

	5	0	3
+	1	7	2
+	1	2	1

d)

	2	7	1
+	3	0	2
+		1	4

e)

		8	6
+	2	0	1
+	7	1	1

f)

	1	2	3
+	7	2	1
+		4	3

g)

	5	4	2
+	1	3	3
+	1	2	0

h)

	4	1	3
+	2	0	2
+		6	4

i)

	5	4	0
+		7	1
+	3	5	8

j)

	2	0	5
+	1	6	2
+	1	5	1

3 Addiere geschickt.

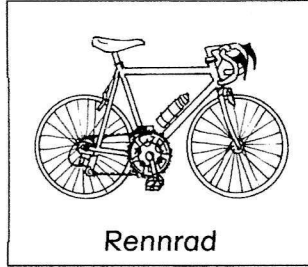





Räder, Räder, Räder



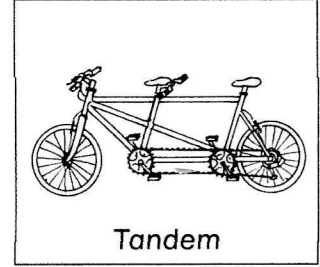
Trekkingrad



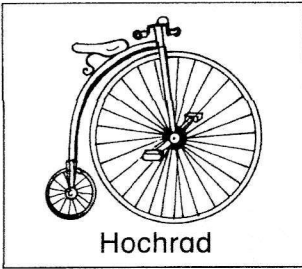
Rennrad



Mountainbike



Tandem




Hochrad

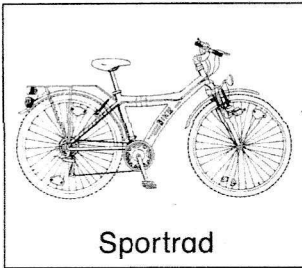
In dem Buchstabenfeld sind die Bezeichnungen von 17 verschiedenen Fahrrädern versteckt.

1 Suche die Namen und umrahme die Wörter.

2 Aufgepasst! Ein zusätzlicher Ausdruck wird scherzhafterweise für ältere Fahrräder gern benutzt. Färbe dieses Namensfeld ein.

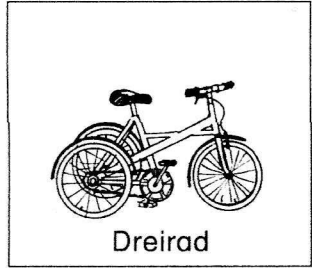


Laufrad




Sportrad


L	S	I	C	H	E	R	H	E	I	T	S	R	A	D	
P	R	E	S	E	C	T	B	M	X	R	A	D	O	R	
M	I	L	E	R	R	U	S	K	F	E	T	A	G	A	
I	N	A	P	R	W	J	T	O	X	T	S	M	F	I	
D	I	U	J	E	V	C	A	X	M	K	M	E	E	S	
R	P	F	J	N	L	W	N	Y	Q	U	P	N	D	I	
E	R	R	S	R	R	U	D	D	N	R	M	R	R	N	
I	R	A	G	A	B	G	E	K	I	B	L	A	B	E	
R	S	D	I	D	N	O	M	Y	C	E	T	D	M	H	
A	P	Ⓢ	D	R	A	H	T	E	S	E	L	Z	T	R	O
D	O	P	M	K	K	L	A	P	P	R	A	D	O	C	
T	R	E	N	N	R	A	D	I	K	A	L	O	A	H	
W	T	K	I	N	D	E	R	R	A	D	K	Ö	S	R	
T	R	E	K	K	I	N	G	R	A	D	B	H	Z	A	
S	A	B	T	R	O	M	I	N	F	L	O	R	A	D	
L	D	M	O	U	N	T	A	I	N	B	I	K	E	L	




Dreirad



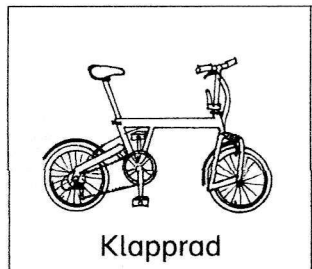
Kinderrad



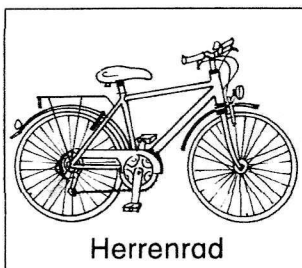
BMX-Rad




Sicherheitsrad



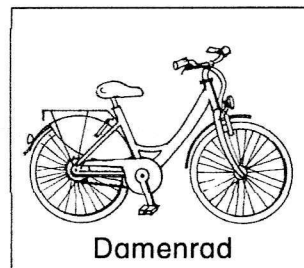
Klapprad



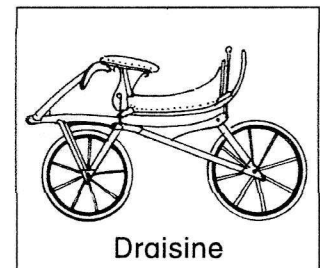
Herrenrad



Trekurbelrad



Damenrad



Draisine

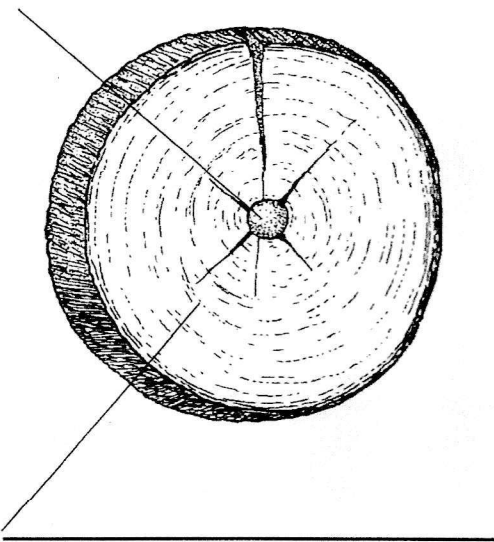


Die Entwicklung des Rades

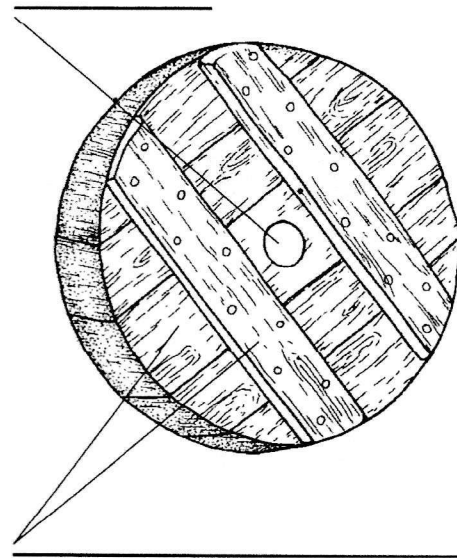
- 1 Ordne bei allen Abbildungen die Begriffe richtig zu.
**Baumscheibe – Bretter – Felge – Gummireifen – Holzspeichen –
Metallspeichen – Nabe – Nabe – Nabe – Reifenband aus Eisen**
- 2 Beschreibe die Räder mithilfe der Begriffe.

Baumscheibenrad

Nabe

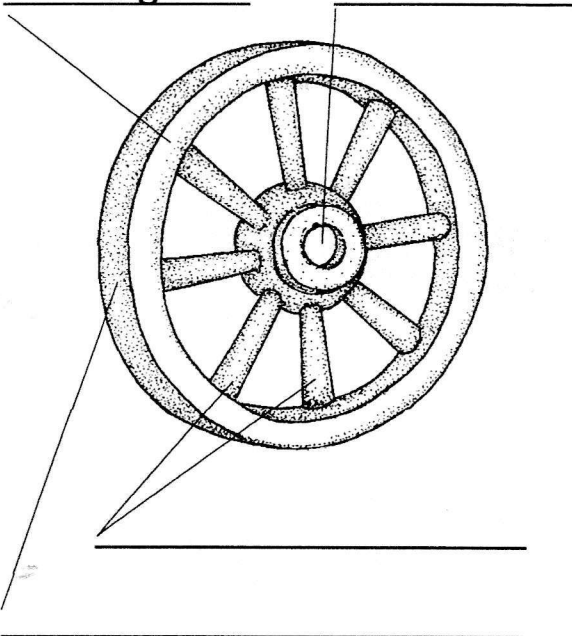


Scheibenrad



Speichenrad aus Holz

Felge



Speichenrad aus Stahl

